

# МАТЕМАТИЧЕСКИЕ ПРОПИСИ

Решаю примеры и задачи  
в детском саду и дома

Реши примеры и раскрась по номерам.

Примеры на сложение, вычитание и текстовые задачи

0 + 2 = 2

7 - 5 = 2

9 - 8 = 1

10 - 5 = 5

6 - 4 = 2

1 + 0 = 1

1 + 5 = 6

3 + 4 = 7

1 — чёрный, 2 — серый, 3 — голубой, 4 — красный, 5 — оранжевый, 6 — жёлтый, 7 — зелёный

Реши примеры и впиши пропущенные цифры

Игры с цифрами и математическими понятиями

Слагаемое	<input type="checkbox"/>	8	<input type="checkbox"/>	4
Слагаемое	7	<input type="checkbox"/>	7	<input type="checkbox"/>
Сумма	2	9	3	<input type="checkbox"/>

11

1 2 3 4 5 6 7 8 9

$1 + 4 = 5$

$2 + 3 = 5$

$7 - 2 = 5$

Впиши цифры в окошки так, чтобы сумма чисел на каждом этаже равнялась числу на крыше.

Состав числа, предметный счёт, числовые лучи и графические диктанты

1

2

3

4

5

6

7

8

9



Найди закономерность и впиши пропущенные цифры.

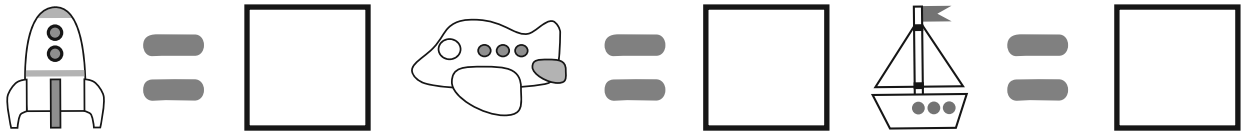

1   ○   3   4   5   ○   7   ○   ○   10

10   9   8   ○   6   ○   ○   ○   2   ○

Впиши правильный ответ цифрой в квадратик рядом с вопросом.

- Какое число следует за числом 1?.....
- Какое число стоит перед числом 4?.....
- Какое число стоит между 3 и 5?.....
- Сколько получится, если к 1 прибавить 1?.....
- Сколько получится, если от 2 отнять 2?.....
- Какое число больше 0 на 7?.....
- За каким числом следует число 9?.....
- Какое число меньше 8 на 2?.....
- Какое число больше 5 на 5? .....
- Какое число состоит из 1 и 0?.....



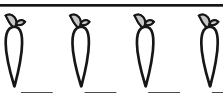
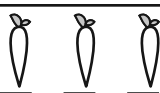
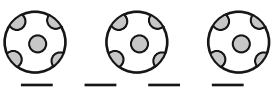
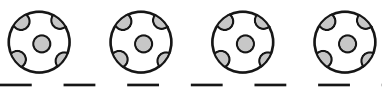
Посчитай предметы и впиши их количество в квадраты.



Нарисуй вторые ряды предметов.

**+1**

**-3**

 <hr style="border-top: 1px dashed black;"/>	 <hr style="border-top: 1px dashed black;"/>
 <hr style="border-top: 1px dashed black;"/>	 <hr style="border-top: 1px dashed black;"/>
 <hr style="border-top: 1px dashed black;"/>	 <hr style="border-top: 1px dashed black;"/>