

# МАТЕМАТИКА

**1** класс

## ТЕМАТИЧЕСКИЕ ПРОВЕРОЧНЫЕ РАБОТЫ



КЛУ

НИКО

ВПР

TIMSS

КЭС

СТАРТ



ФИНИШ

УДК 373.167.1:512  
ББК 22.14я721  
В67

**Волкова, Е. В.**

В67 Математика. 1 класс. Тематические проверочные работы / Е. В. Волкова, Н. М. Зайцева, Н. Б. Фомина. — 2-е изд., эл. — 1 файл pdf : 50 с. — Москва : Издательство «Интеллект-Центр», 2021. — (Тематические проверочные работы). — Систем. требования: Adobe Reader XI либо Adobe Digital Editions 4.5 ; экран 10". — Текст : электронный.

ISBN 978-5-907431-20-1

Пособие «Тематические проверочные работы» предназначено для оценки уровня освоения планируемых результатов по учебному предмету «Математика» в 1 классе начальной школы. Материалы пособия сформированы с учётом требований ФГОС, содержат контролируемые элементы содержания стандарта по каждой теме. Учебные задания ориентированы не только на оценку освоения предметных результатов обучения, но и на подготовку к решению задач в формате международных исследований качества образования.

УДК 373.167.1:512  
ББК 22.14я721

**Электронное издание на основе печатного издания:** Математика. 1 класс. Тематические проверочные работы / Е. В. Волкова, Н. М. Зайцева, Н. Б. Фомина. — Москва : Издательство «Интеллект-Центр», 2020. — 50 с. — (Тематические проверочные работы). — ISBN 978-5-907157-64-4. — Текст : непосредственный.

В соответствии со ст. 1299 и 1301 ГК РФ при устранении ограничений, установленных техническими средствами защиты авторских прав, правообладатель вправе требовать от нарушителя возмещения убытков или выплаты компенсации.

ISBN 978-5-907431-20-1

© ООО «Издательство «Интеллект-Центр», 2020  
© Е. В. Волкова, Н. М. Зайцева, Н. Б. Фомина, 2019

## СОДЕРЖАНИЕ

Введение.....	3
Пояснения для выполнения работ .....	4
ТЕМАТИЧЕСКАЯ РАБОТА № 1. Сравнение предметов и групп предметов.....	5
ТЕМАТИЧЕСКАЯ РАБОТА № 2. Числа от 1 до 10. Число 0. Нумерация.....	11
ТЕМАТИЧЕСКАЯ РАБОТА № 3. Числа от 1 до 10 и число 0. Решение задач. Таблица сложения .....	17
ТЕМАТИЧЕСКАЯ РАБОТА № 4. Решение задач изученных видов.....	22
ТЕМАТИЧЕСКАЯ РАБОТА № 5. Обобщение по теме «Числа от 1 до 20» .....	27
ТЕМАТИЧЕСКАЯ РАБОТА № 6. Табличное сложение и вычитание.....	33
ТЕМАТИЧЕСКАЯ РАБОТА № 7. Итоговая проверочная работа .....	38
Приложение .....	43

## Пояснения для выполнения работ

При выборе верного ответа необходимо отметить значком ✓ в клетке ту букву, которая, по твоему мнению, соответствует верному ответу, как это сделано в примере 1. Если надо изменить выбранный ответ, то зачеркни его и отметь новый ответ, который считаешь верным, как это сделано в примере 2.

### Пример 1

Сколько кубиков у Тани?



3  А

4  Б

5  В

### Пример 2

Сколько кубиков у Тани?



3  А

4  Б

5  В

# ТЕМАТИЧЕСКАЯ РАБОТА № 1

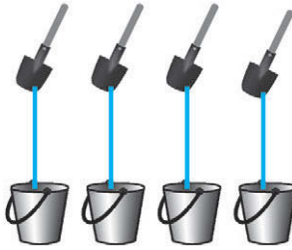
## СРАВНЕНИЕ ПРЕДМЕТОВ И ГРУПП ПРЕДМЕТОВ

1. Выбери картинку, в которой верно выполнено сравнение предметов. Отметь знаком ✓ верный ответ.

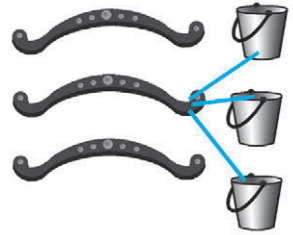
**А**



**Б**

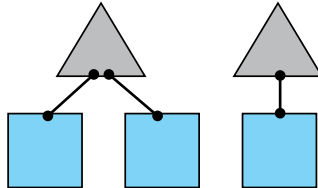


**В**

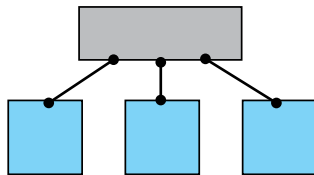


2. Определи, кто из ребят верно составил пары, сравнивая 2 группы предметов. Выбери и отметь ✓.

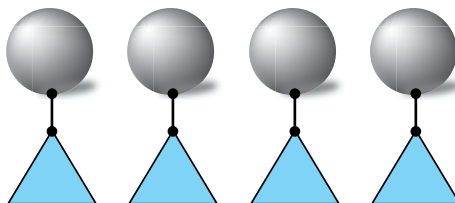
**А**



**Б**

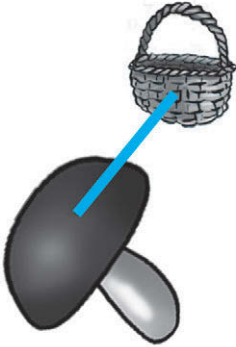


**В**

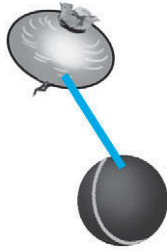


3. Найди картинку, в которой один большой по размеру предмет соединён с одним меньшим по размеру предметом.

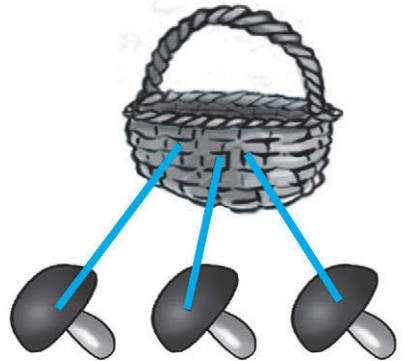
А



Б




В



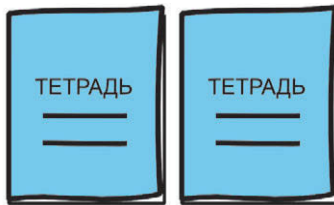
4. Выбери правильный ответ для решения задачи. Отметь знаком ✓.

У Тани было три тетради, которые она отдала поровну трём своим подругам. Сколько тетрадей получила каждая подруга?

А



Б



В

