


В соответствии с требованиями Федерального государственного образовательного стандарта

С.А. Маркин

# ИСТОРИЯ

Карты: задания с решениями,  
тренажер для запоминания

2020



- 65 карт и схем
- Четкие рекомендации
- Тренировочные задания с ответами по всем основным темам
- Интенсивная подготовка к ЕГЭ по истории в сжатые сроки
- Соответствие формату экзаменационной работы

УДК 373.167.1:94(47)

ББК 63.3(4Рос)

М26

*Все права защищены. Ни одна часть данного издания не может быть воспроизведена или использована в какой-либо форме, включая электронную, фотокопирование, магнитную запись или какие-либо иные способы хранения и воспроизведения информации, без предварительного письменного разрешения правообладателя.  
Издательство благодарит автора книги за предоставленный иллюстративный материал.*

Пособие предназначено для подготовки учеников средней школы к Единому государственному экзамену по истории. В новой книге автор бестселлеров — пособий по подготовке к школьным выпускным экзаменам — собрал тестовый материал по всем периодам истории России. Книга станет универсальным помощником при формировании и совершенствовании у учеников базовых знаний и умения работать с исторической картой, которые помогут успешно сдать ЕГЭ по истории.

Пособие адресовано учащимся общеобразовательных учреждений и преподавателям истории.

УДК 373.167.1:94(47)

ББК 63.3(4Рос)

Руководитель проекта *Ж. Фролова*  
Ответственный редактор *О. Зозуля*  
Ведущий редактор *О. Макеева*  
Корректор *О. Соколова*  
Компьютерная верстка *Н. Бакулиной*

Издание подготовлено издательством «Книжкин Дом»  
Приглашаем к сотрудничеству авторов и организации

г. Ростов-на-Дону, ул. Мечникова, 112 «Г», офис 207  
Электронная почта (E-mail): [book\\_house@list.ru](mailto:book_house@list.ru)  
Сайт: [www.k-dom.net](http://www.k-dom.net) Тел.: +7 (863) 207 80 06

Общероссийский классификатор продукции ОК-005-93, том 2;  
953000 – книги и брошюры

Подписано в печать 20.03.2019. Формат 84×108/16.  
Гарнитура CharterITC. Бумага типографская. Печать офсетная.  
Усл. печ. л. 16,8. Тираж 1500 экз.



## ОГЛАВЛЕНИЕ

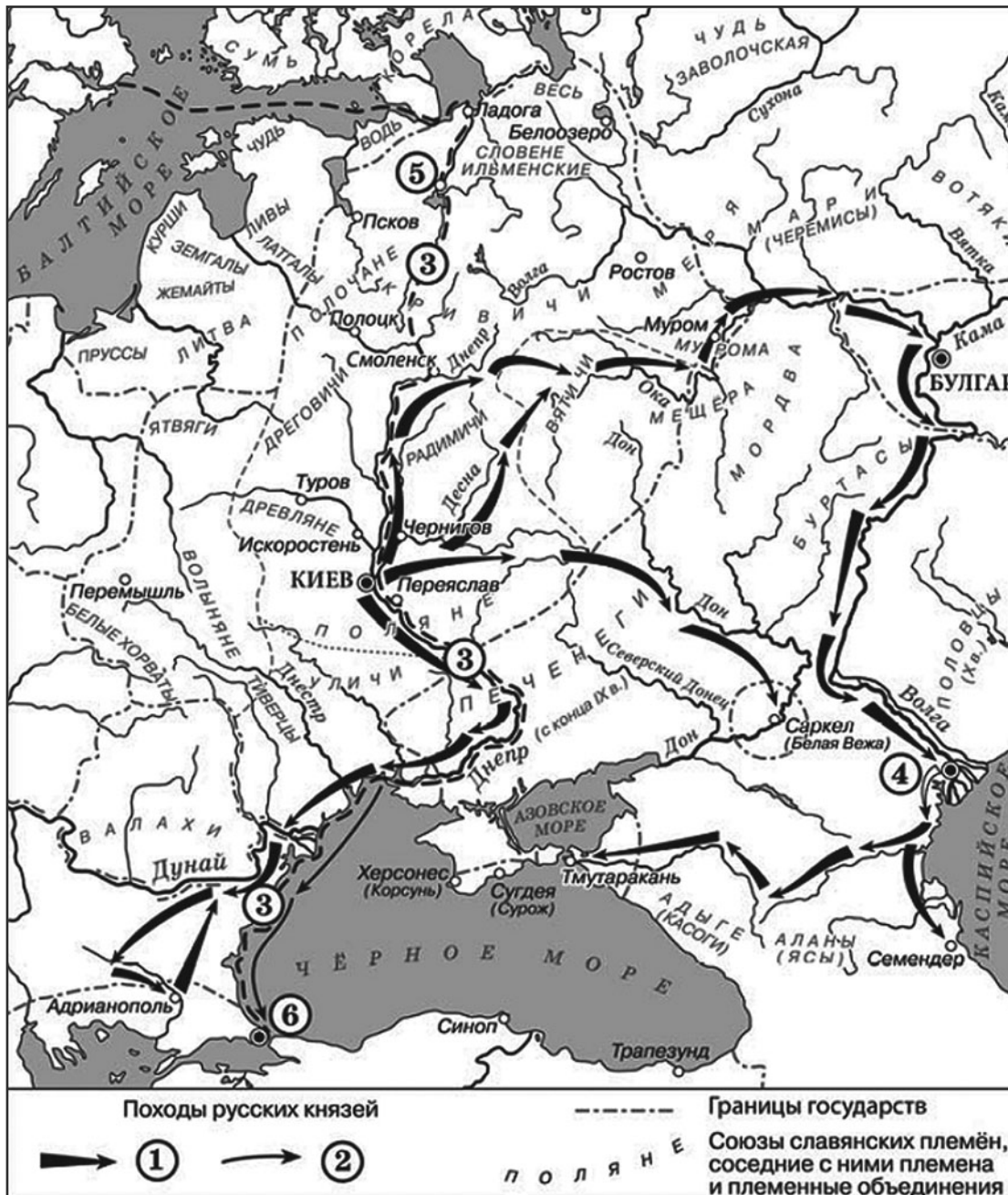
<b>ПРЕДИСЛОВИЕ</b> .....	5
<b>РАЗДЕЛ 1. РЕКОМЕНДАЦИИ ПО ВЫПОЛНЕНИЮ ЗАДАНИЙ НА УМЕНИЕ РАБОТАТЬ С ИСТОРИЧЕСКОЙ КАРТОЙ, СХЕМОЙ (13, 14, 15, 16)</b> .....	7
<b>РАЗДЕЛ 2. ТРЕНИРОВОЧНЫЕ ЗАДАНИЯ</b> .....	10
882–1015 гг. ....	10
1015–1132 гг. ....	14
1132–1237 гг. ....	18
1237–1303 гг. ....	22
1303–1425 гг. ....	26
1425–1505 гг. ....	30
1505–1547 гг. ....	34
1547–1598 гг. ....	38
1598–1613 гг. ....	42
1613–1645 гг. ....	46
1645–1676 гг. ....	50
1676–1700 гг. ....	54
1700–1725 гг. ....	58
1725–1762 гг. ....	62
1762–1801 гг. ....	66
1801–1825 гг. ....	70
1825–1855 гг. ....	74
1855–1881 гг. ....	78
1881–1900 гг. ....	82
1901–1917 гг. ....	86
1918–1921 гг. ....	90
1921–1928 гг. ....	94

1928–1941 гг. ....	98
1941–1945 гг. ....	102
1945–1953 гг. ....	114
1953–1964 гг. ....	118
1964–1984 гг. ....	122
1985–1991 гг. ....	126
1991–1999 гг. ....	130
2000–2018 гг. ....	134
<b>ОТВЕТЫ НА ТРЕНИРОВОЧНЫЕ ЗАДАНИЯ.....</b>	<b>138</b>
<b>ИСПОЛЬЗОВАННАЯ ЛИТЕРАТУРА .....</b>	<b>159</b>

# РАЗДЕЛ 1.

## РЕКОМЕНДАЦИИ ПО ВЫПОЛНЕНИЮ ЗАДАНИЙ НА УМЕНИЕ РАБОТАТЬ С ИСТОРИЧЕСКОЙ КАРТОЙ, СХЕМОЙ (13, 14, 15, 16)

Примеры подобных заданий:



**13.** Укажите век, когда произошли события, обозначенные на схеме стрелками. Ответ запишите словом.

Ответ: \_\_\_\_\_.

**14.** Укажите имя князя, походы которого обозначены в легенде схемы цифрой «1».

Ответ: \_\_\_\_\_.

**15.** Укажите название торгового пути, обозначенного на схеме цифрой «3».

Ответ: \_\_\_\_\_.

**16.** Какие суждения, относящиеся к событиям, обозначенным на схеме, являются верными? Выберите три суждения из шести предложенных. Запишите в таблицу цифры, под которыми они указаны.

- 1) Цифрой «5» на схеме обозначен город Новгород.
- 2) В ходе событий, обозначенных на схеме стрелками, русское войско взяло город Перемышль.
- 3) В городе, обозначенном на схеме цифрой «6», согласно «Повести временных лет», принял крещение киевский князь Владимир.
- 4) На схеме обозначен политико-административный центр восточнославянского племенного союза древлян.
- 5) Цифрой «4» на схеме обозначена столица Волжской Булгарии.
- 6) Киевский князь Олег совершил поход, обозначенный в легенде схемы цифрой «2».

Ответ:

--	--	--

Для выполнения задания № 13 нужно соотнести изображение на схеме и легенду к ней. В левом нижнем углу схемы приведены условные обозначения границ существовавших на тот момент государств, направления военных походов русских князей. Из текста задания № 13 ясно, что изображенные на схеме походы относятся к одному веку. Определяем, в каком веке произошли походы князей на государства, располагавшиеся на реке Волге, на реке Дунай, и на столицу Византийской империи Константинополь. Поход князя Олега на Константинополь состоялся в 907 году, поход князя Святослава против Волжской Булгарии и Хазарского каганата, располагавшихся на реке Волге, состоялся в 965–967 годах, его же поход против Дунайской Болгарии произошел в 969–970 годах. Все это события X века. Пишем в строку ответа на задание № 13: *ДЕСЯТЫЙ*.

Для выполнения задания № 14 нужно указать, какой князь совершил походы на государства, располагавшиеся на реке Волге и на реке Дунай. Поход князя Святослава против Волжской Булгарии и Хазарского каганата, располагавшихся на реке Волге, состоялся

в 965–967 годах, его же поход против Дунайской Болгарии произошел в 969–970 годах. Пишем в строку ответа на задание № 14: *СВЯТОСЛАВ*.

**Для выполнения задания № 15** нужно указать название торгового пути, обозначенного на схеме цифрой «3». Этот торговый путь, как видно на схеме, начинался в Балтийском море, проходил через территорию Киевской Руси по рекам и завершался в Черном море, в Константинополе. Вспоминаем, что в IX–X веках, события которых обозначены на схеме, Балтийское море называли Варяжским, Византийскую империю, столицей которой был город Константинополь, называли Греческой, а ее жителей — греками. Поэтому торговый путь из Балтийского моря в Черное именовался путем «из варяг в греки». Пишем в строку ответа на задание № 15: *ИЗ ВАРЯГ В ГРЕКИ*.

**Для выполнения задания № 16** в нашем примере необходимо выбрать три суждения из числа предложенных, которые относятся к событиям, обозначенным на схеме.

Проверяем первое суждение: «*Цифрой «5» на схеме обозначен город Новгород*». На схеме видно, что город, обозначенный цифрой «5», находится на берегу озера, на пути «из варяг в греки», в землях, где проживал племенной союз ильменских словен. Всем этим критериям соответствует только один город — Новгород. Следовательно, суждение № 1 является верным. Ставим в таблицу ответа цифру 1.

Проверяем второе суждение: «*В ходе событий, обозначенных на схеме стрелками, русское войско взяло город Перемышль*». На схеме видно, что к городу Перемышль не идут стрелки, обозначающие военные походы. Значит, этот город не мог быть захвачен. Следовательно, суждение № 2 является неверным.

Проверяем третье суждение: «*В городе, обозначенном на схеме цифрой «6», согласно «Повести временных лет», принял крещение киевский князь Владимир*». Цифрой «6» на схеме обозначен город Константинополь. Князь Владимир, согласно летописи, принял крещение в Херсонесе, в Крыму. Следовательно, суждение № 3 является неверным.

Проверяем четвертое суждение: «*На схеме обозначен политико-административный центр восточнославянского племенного союза древлян*». Из курса истории мы знаем, что центром племенного союза древлян был город Искоростень. Этот город обозначен на схеме. Следовательно, суждение № 4 является верным. Ставим в таблицу ответа цифру 4.

Проверяем пятое суждение: «*Цифрой «4» на схеме обозначена столица Волжской Булгарии*». Из курса истории мы знаем, что государство Волжская Булгария располагалось в среднем течении реки Волги, в районе ее слияния с рекой Камой. Столицей Волжской Булгарии являлся город Булгар. Его название присутствует на карте. Город, обозначенный на карте цифрой «4», находится в нижнем течении реки Волги. Следовательно, суждение № 5 является неверным.

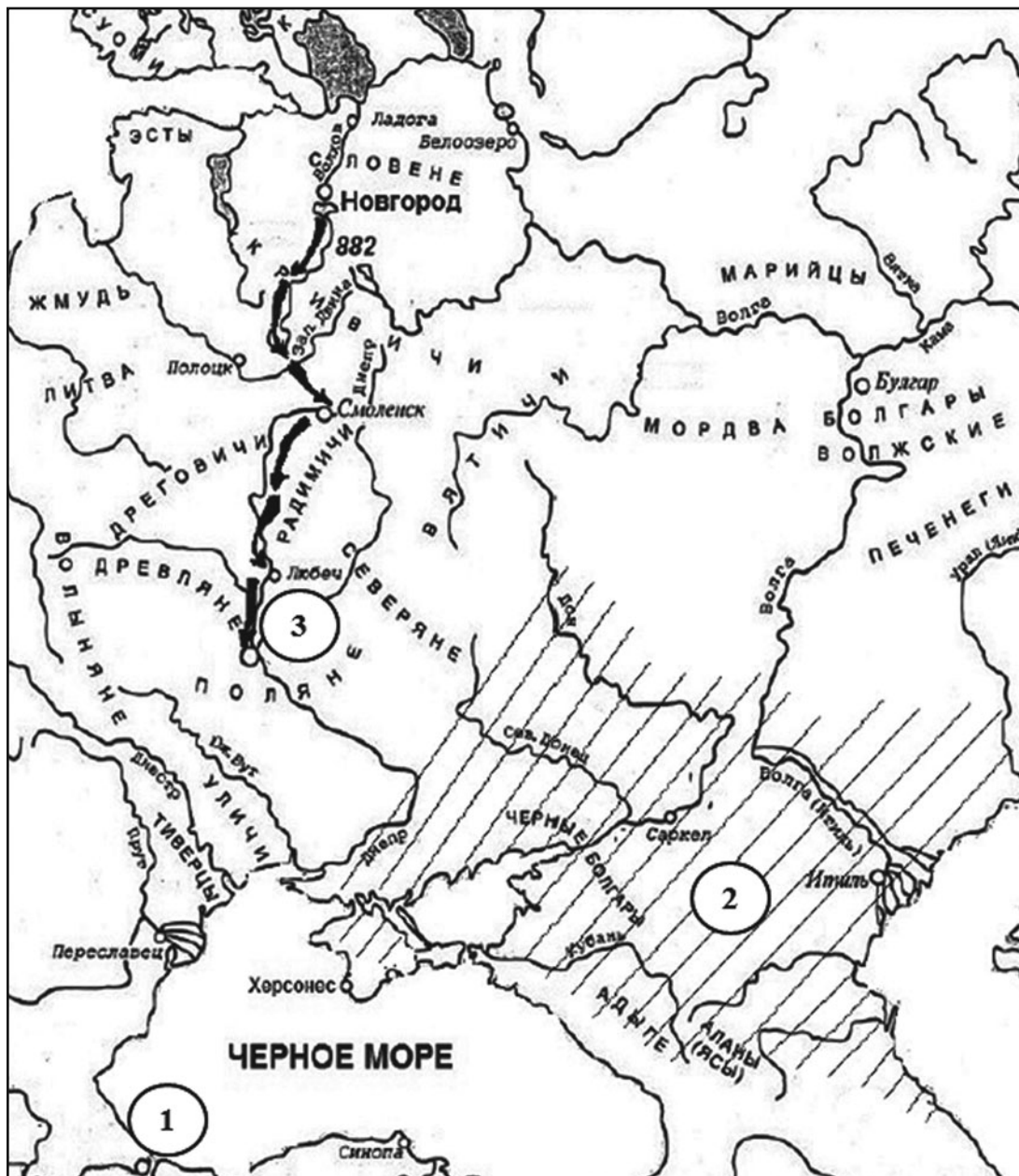
Проверяем шестое суждение: «*Киевский князь Олег совершил поход, обозначенный в легенде схемы цифрой «2»*». Из курса истории мы знаем, что князь Олег совершил поход на Константинополь в 907 году. Согласно легенде схемы, он обозначен цифрой «2». Следовательно, суждение является верным. Ставим в таблицу ответа цифру 6.

Итак, в нашем примере ответ должен выглядеть следующим образом: 146.

## РАЗДЕЛ 2. ТРЕНИРОВОЧНЫЕ ЗАДАНИЯ

882–1015 гг.

*Рассмотрите схему и выполните задания 13–16.*





13.1. Укажите имя князя, осуществившего поход, обозначенный на схеме стрелками.

Ответ: \_\_\_\_\_.

14.1. Укажите название государства, территория которого обозначена на схеме цифрой «2».

Ответ: \_\_\_\_\_.

15.1. Укажите название города, обозначенного на схеме цифрой «3».

Ответ: \_\_\_\_\_.

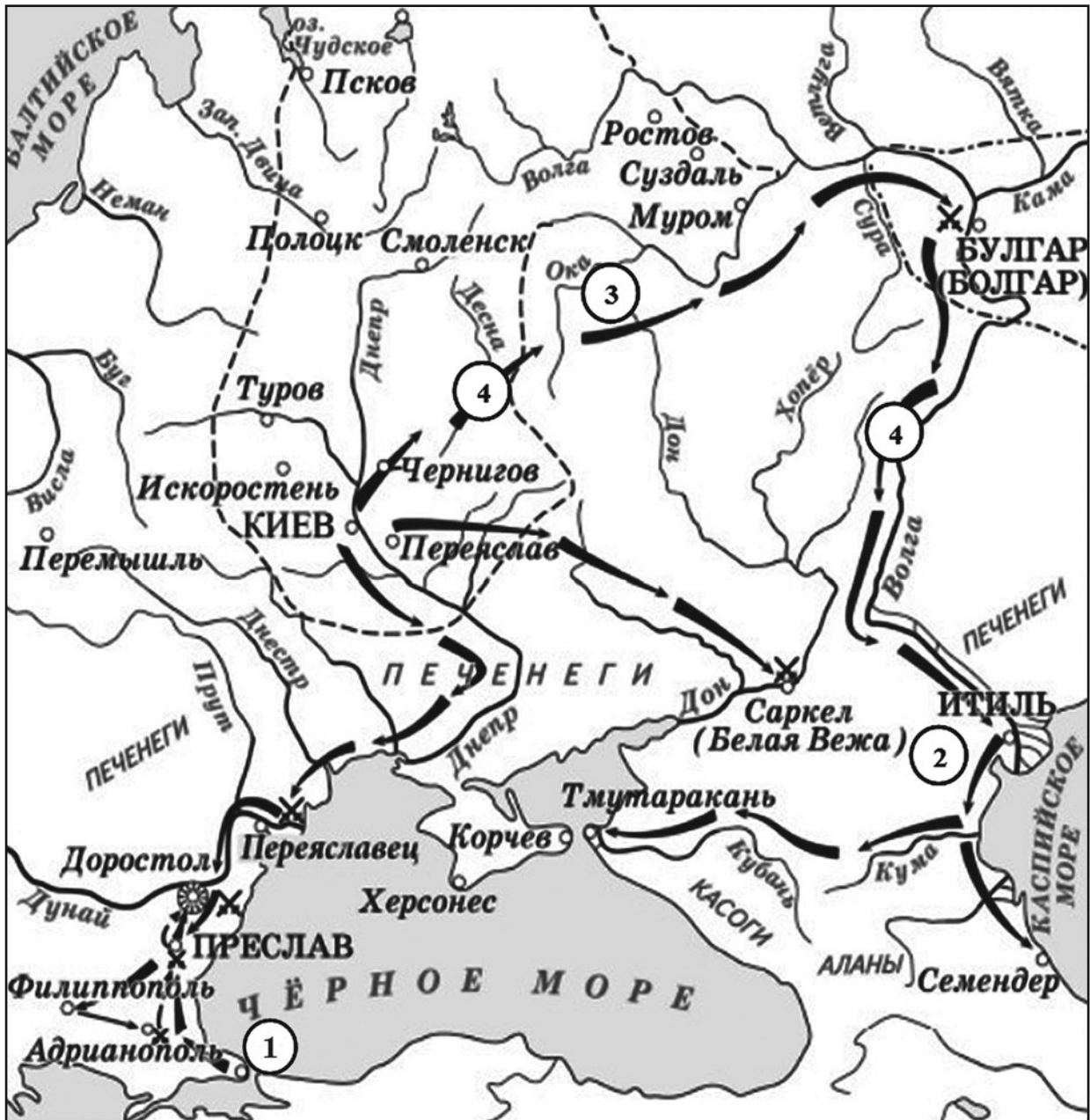
16.1. Какие суждения, относящиеся к событиям, обозначенным на схеме, являются верными? Выберите три суждения из шести предложенных. Запишите в таблицу цифры, под которыми они указаны.

- 1) Цифрой «1» на схеме обозначен город Константинополь.
- 2) События, обозначенные на схеме, привели к образованию Древнерусского государства.
- 3) В городе, обозначенном на схеме цифрой «1», согласно «Повести временных лет», принял крещение киевский князь Владимир.
- 4) Накануне похода, обозначенного на схеме, ряд восточнославянских племенных союзов являлись данниками государства, обозначенного на схеме цифрой «2».
- 5) Князь, осуществивший поход, обозначенный на схеме, впоследствии разгромил государство, обозначенное на схеме цифрой «2».
- 6) События, обозначенные на схеме, привели к распаду Древнерусского государства на отдельные княжества и земли.

Ответ:

--	--	--

Рассмотрите схему и выполните задания 13–16.



13.2. Укажите название города, обозначенного на схеме цифрой «1».

Ответ: \_\_\_\_\_.

14.2. Напишите имя военачальника, походы которого обозначены на схеме.

Ответ: \_\_\_\_\_.

15.2. Укажите название государства, обозначенного на схеме цифрой «2».

Ответ: \_\_\_\_\_.

16.2. Какие суждения, относящиеся к событиям, обозначенным на схеме, являются верными? Выберите три суждения из шести предложенных. Запишите в таблицу цифры, под которыми они указаны.

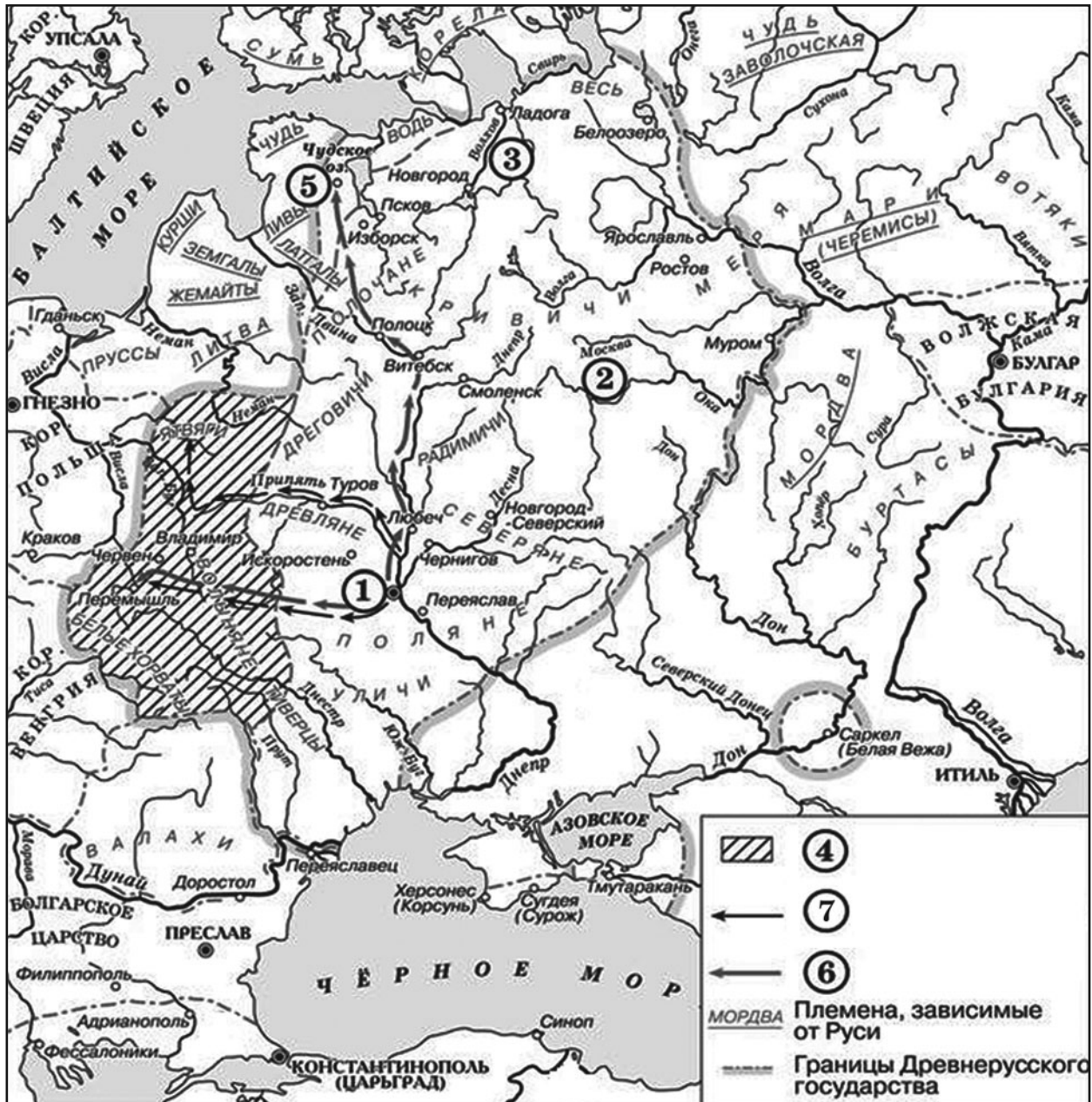
- 1) Цифрой «3» на схеме обозначена территория проживания племенного союза вятичей.
- 2) В ходе событий, обозначенных на схеме стрелками, русское войско взяло город Тмутаракань.
- 3) Во всех походах, обозначенных на схеме, союзниками русского войска выступали печенеги.
- 4) События, обозначенные на схеме, привели к распаду Русского государства на отдельные княжества.
- 5) В походе, обозначенном на схеме цифрой «4», союзником Руси выступала Волжская Булгария.
- 6) События, обозначенные на схеме, состоялись в первой половине X века.

Ответ: 

--	--	--

1015–1132 гг.

Рассмотрите схему и выполните задания 13–16.



**13.1.** Укажите название города, обозначенного на схеме цифрой «1».

Ответ: \_\_\_\_\_.

**14.1.** Укажите имя князя, в правление которого в состав Киевской Руси вошли территории, обозначенные в легенде схемы цифрой «4».

Ответ: \_\_\_\_\_.

**15.1.** Укажите название восточнославянского племенного союза, проживавшего на территории, обозначенной на схеме цифрой «2».

Ответ: \_\_\_\_\_.

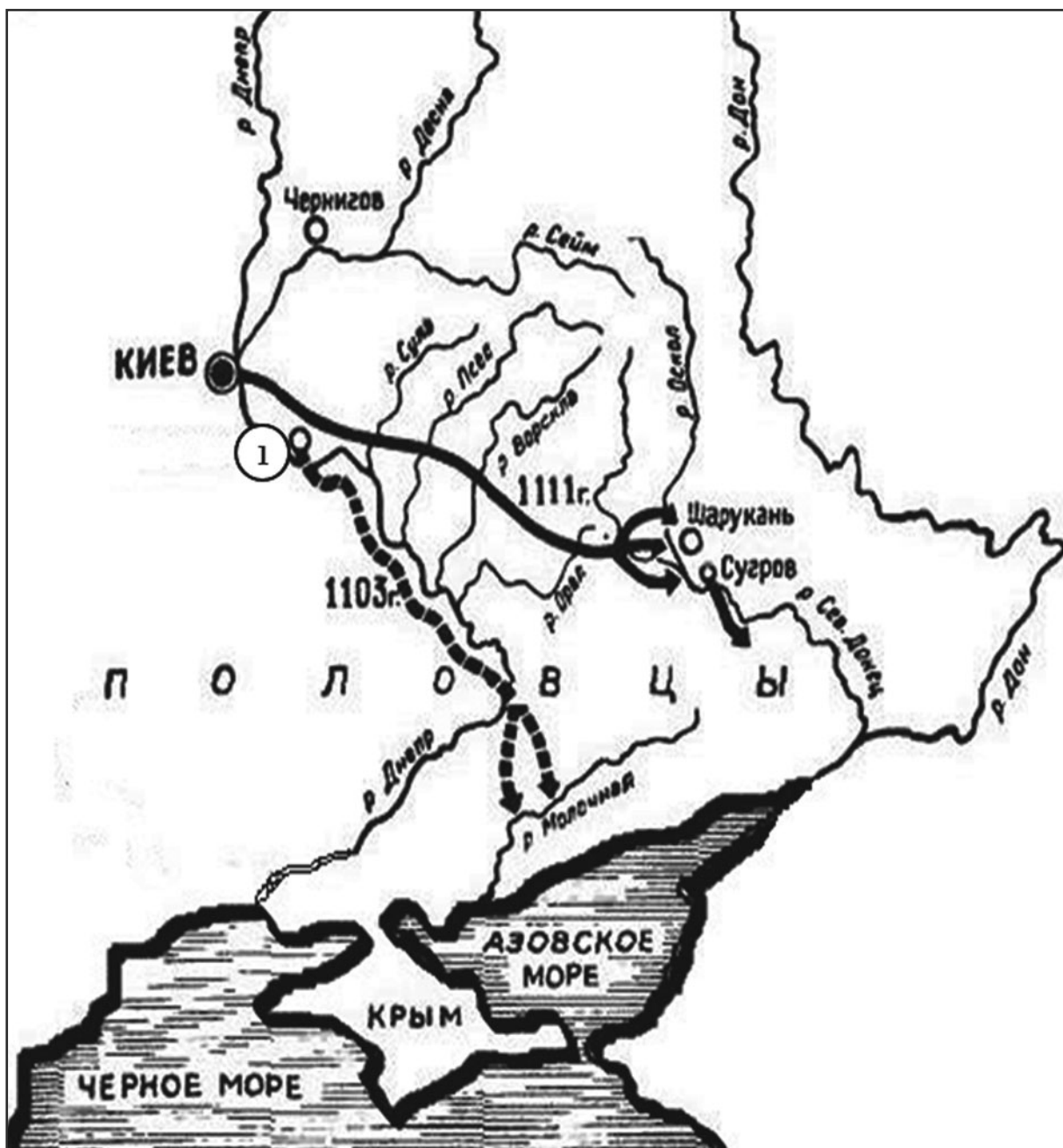
**16.1.** Какие суждения, относящиеся к событиям, обозначенным на схеме, являются верными? Выберите три суждения из шести предложенных. Запишите в таблицу цифры, под которыми они указаны.

- 1) Военные походы, обозначенные в легенде схемы цифрой «7», состоялись в конце X века.
- 2) События, обозначенные на схеме, относятся ко второй половине XI века.
- 3) Город, обозначенный на схеме цифрой «5», при основании был назван Юрьев.
- 4) Племенной союз, территория проживания которого обозначена на схеме цифрой «2», платил дань Волжской Булгарии.
- 5) Князь, осуществивший поход, обозначенный в легенде схемы цифрой «6», ввел в Киевской Руси «Русскую Правду».
- 6) События, обозначенные на схеме, привели к распаду Киевской Руси на отдельные княжества и земли.

Ответ: 

--	--	--

*Рассмотрите схему и выполните задания 13–16.*



13.2. Укажите имя князя, организовавшего походы, обозначенные на схеме стрелками.

Ответ: \_\_\_\_\_.

14.2. Укажите название города, обозначенного на схеме цифрой «1».

Ответ: \_\_\_\_\_.

15.2. Укажите имя великого князя Киевского, в правление которого произошли события, обозначенные на схеме.

Ответ: \_\_\_\_\_.

16.2. Какие суждения, относящиеся к событиям, обозначенным на схеме, являются верными? Выберите три суждения из шести предложенных. Запишите в таблицу цифры, под которыми они указаны.

- 1) В одном из походов, обозначенных на схеме, Русь воевала с Хазарским каганатом.
- 2) Походы, обозначенные на схеме стрелками, всегда возглавлял великий Князь Киевский.
- 3) В одном из походов, обозначенных на схеме, русское войско потерпело поражение от своих противников.
- 4) Итогом походов, обозначенных на схеме, стало временное прекращение набегов кочевников на территорию Руси.
- 5) Обозначенные на схеме походы были проведены в соответствии с решениями Любечского съезда князей.
- 6) Полководец, чьи походы обозначены на схеме, впоследствии стал великим князем Киевским.

Ответ:

--	--	--

1132–1237 гг.

*Рассмотрите схему и выполните задания 13–16.*

