

Рабочая тетрадь

для

развития

математических

представлений

ВСЁ, ЧТО
ДОЛЖЕН ЗНАТЬ
ДОШКОЛЬНИК
ПРИ ПОСТУПЛЕНИИ
В ПЕРВЫЙ КЛАСС

Дорогой друг!

Ты наверняка уже умеешь считать до 10, знаешь действия «сложение» и «вычитание», умеешь писать цифры. С нашей книгой ты сможешь проверить и закрепить свои навыки, познакомиться с математическими понятиями: «геометрические фигуры», «числовая прямая», «прямой и обратный счёт» и т. д.

Чтобы выполнить все задания, тебе пригодятся умение считать и рассуждать, смекалка и хорошая память!



Сосчитай, раскрась цветными карандашами предметы (детали) на картинке или обведи рамочку вокруг нужного количества предметов. Если ответ 1 — жёлтым, 2 — красным, 3 — голубым, 4 — зелёным, 5 — оранжевым, 6 — синим, 7 — розовым, 8 — фиолетовым, 9 — коричневым, 10 — серым или простым карандашом.



Рассмотри картинку, раскрась, как хочешь, выполни задание.

Геометрические фигуры



Найди и сосчитай на картинке геометрические фигуры. Вспомни предметы, имеющие геометрическую форму. (Например: зеркало может быть круглым, овальным, квадратным.)

четырёхугольники

прямоугольник

ромб

трапеция

квадрат

треугольник

круг

овал

Detailed description: The image shows a scene with a sun, buildings, trees, and a lake. A box labeled 'четырёхугольники' (quadrilaterals) has arrows pointing to a square (квадрат), a rectangle (прямоугольник), a rhombus (ромб), and a trapezoid (трапеция). Below the scene are seven characters representing different shapes: a triangle (треугольник), a circle (круг), an oval (овал), a rectangle (прямоугольник), a rhombus (ромб), a trapezoid (трапеция), and a square (квадрат). Below each character is a small square box for counting.

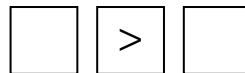
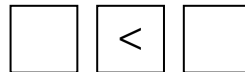
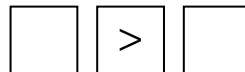
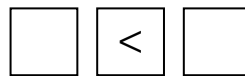
Сравнение чисел. Знаки $>$, $<$



Сосчитай предметы, сравни их, поставь нужный знак. Запиши эти неравенства цифрами. Обведи клеточку с меньшим числом зелёным карандашом.

Ключ «птички-помощника» всегда смотрит на меньшее число.




$$\boxed{3} < \boxed{5} \quad \left\langle \begin{array}{c} \text{птичка} \\ \text{птичка} \end{array} \right\rangle \quad \boxed{4} > \boxed{2}$$






Сложение и вычитание. Знаки +, -, =



Сосчитай предметы и точки. Обведи клеточку с ответом синим карандашом в примерах на вычитание, красным — на сложение.



 +  = 
было стало больше

+ =

 -  = 
было стало меньше



- =



 +  =



 -  =

 +  =

 -  =

 +  =

 +  =

 -  =