

# ПРОВЕРЯЛОЧКА



## МАТЕМАТИКА

**3** КЛАСС

учени \_\_\_\_\_ класса \_\_\_\_\_

\_\_\_\_\_ ШКОЛЫ \_\_\_\_\_

\_\_\_\_\_

\_\_\_\_\_

## **Дорогие ребята!**

Эта книга поможет вам проверить и закрепить знания, полученные на уроках математики. Здесь вы найдёте как задания на повторение изученного в 1—2-м классах, так и задания, соответствующие программе 3-го класса.

Вам предлагается решить примеры на все виды арифметических действий, выполнить вычисления, используя свойства умножения или деления, сравнить числа или выражения, решить уравнения и др.

**Ответы** к заданиям приводятся в конце книги.

**1. Математический диктант:**

- число, следующее за числом 999, ...
- число, на 1 меньше числа 1000, ...
- число, на 1 меньше числа 56300, ...
- наименьшее трёхзначное число ...
- число, предшествующее числу 300, ...
- число, следующее за числом 899, ...

**2. Сосчитай, используя приём округления:**

$$39 + 52 =$$

$$39 + 54 =$$

$$80 - 54 =$$

$$64 - 29 =$$

$$81 - 54 =$$

$$83 - 54 =$$

**1.** Сосчитай, используя приём округления:

$$9 + 9 + 9 + 9 + 9 + 6 =$$

$$405 + 357 =$$

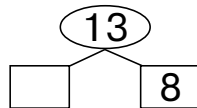
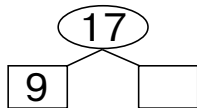
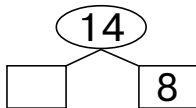
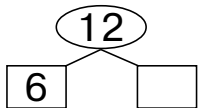
$$99 + 99 + 99 + 99 + 99 + 5 =$$

$$196 + 175 =$$

$$98 + 98 + 98 + 98 + 98 + 10 =$$

$$196 + 299 =$$

**2.** Вставь пропущенные слагаемые:



**3.** Сравни (<, >, =):

$$49 - 21 \dots 14 + 14$$

$$52 - 26 \dots 13 + 14$$

$$86 - 47 \dots 18 + 20$$

$$94 - 19 \dots 70 + 7$$

**1. Сосчитай:**

$9 - 5 =$

$8 - 0 =$

$9 + 6 =$

$13 - 6 =$

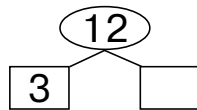
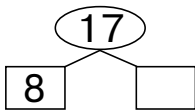
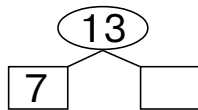
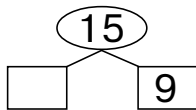
$17 + 5 =$

$7 + 10 =$

**2. Заполни 2 таблицы:**

	- 13	- 24	- 37	- 40
58				
70				
81				

	- 12	- 27	- 34	- 51
60				
72				
97				

**3. Вставь пропущенные слагаемые:**

**1. Заполни 4 таблицы:**

	+ 6
6	
7	
8	
9	

	- 6
15	
12	
14	
11	

	+ 9
4	
5	
6	
7	

	- 9
18	
15	
14	
12	

**2. Сосчитай наиболее удобным способом:**

$$7 + 3 + 5 =$$

$$46 + 33 + 17 =$$

$$5 + 3 + 4 =$$

$$15 + 25 + 39 =$$

**3. Сравни (<, >, =):**

$$20 + 70 \dots 90 - 10$$

$$30 \dots 15 + 16$$

$$17 + 17 \dots 34$$